

## Nr. 2-2009 Atom nummer nul

*Fag: Fysik A*

*Udarbejdet af: Michael Bjerring Christiansen, Århus Statsgymnasium, august 2009*

### Spørgsmål til artiklen

1. Hvorfor vil det være interessant, hvis man for eksempel finder antikulstof i den kosmiske stråling?
2. Hvad er navnet på det, forfatterne kalder atom nummer nul, og hvad består det af?
3. Hvorfor kaldes atom nummer nul for en teoretisk perle?
4. Hvilke forskelle er der mellem atom nummer nul og et brint atom med hensyn til størrelse og energiniveauer?
5. Hvilke ioner og molekyler, hvor atom nummer nul indgår, kender man?
6. Hvilke praktiske afkast inden for eksempelvis medicin har forskningen i disse partikler?

### Uddybende opgaver og spørgsmål

7. Positronerne, som forskerne bruger, dannes når  $^{22}\text{Na}$  henfalder. Hvad kaldes det henfald  $^{22}\text{Na}$  laver, og hvordan ser henfaldsreaktionen ud?
8. Når positronium annihileres udsendes to (eller tre) fotoner. Beregn hvor langt en foton kan bevæge sig i løbet af positroniums levetid for både den kort- og den langlivede udgave.
9. For at måle positroniums levetid startes et stopur, når en positron rammer detektor 1. Stopuret stoppes igen, når strålingen fra den dannede positroniums henfald rammer detektor 2. Forskernes positronkilde giver en halv million positroner pr. sekund i en jævn strøm. Hvor lang tid går der mellem, at startdetektoren registrerer en positron? Er det muligt, at stopuret bliver startet to gange, inden positronium henfalder og stopper stopuret?
10. Hvilken betydning har det for målingen af positroniums levetid, hvis forskernes kilde gav flere positroner pr. sekund?
11. Læs [http://www.phys.au.dk/~ulrik/ps\\_levetid.htm](http://www.phys.au.dk/~ulrik/ps_levetid.htm) specielt Figur 2 og teksten derunder og argumentér for, at den præcise afstand mellem detektor 1 og detektor 2 ingen betydning har for levetidsmålingerne. (Det er præcisionen i tidtagningen, der sætter grænsen for, hvor korte levetider forskerne kan måle.)

### Boks 1: Coulombs lov

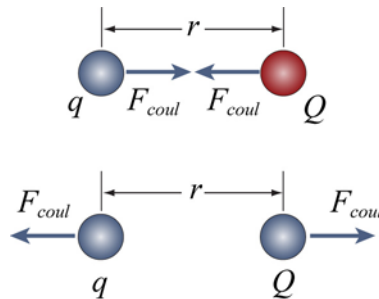
Positronium minder i sin opbygning meget om brintatomet, så for at bedre at forstå positroniums egenskaber, er vi nødt til at forstå brintatomet og det kræver, at vi ved noget om den kraft, der virker mellem elektrisk ladede partikler.

Kraften  $F_{coul}$  som to elektrisk ladede partikler gensidigt påvirker hinanden med kaldes coulombkraften og er givet ved formlen

$$F_{coul} = \frac{1}{4 \cdot \pi \cdot \epsilon_0} \cdot \frac{q \cdot Q}{r^2}$$

$Q$  og  $q$  er partiklernes respektive ladninger,  $r$  er afstanden mellem de to partikler og  $\epsilon_0$  er en konstant, der kaldes vacuumpermittiviteten.  $\epsilon_0 = 8,85 \cdot 10^{-12} \text{ C}^2/(\text{m}^2 \cdot \text{N})$ .

Hvis de to ladninger har samme fortegn bliver coulombkraften positiv, og partiklerne vil frastøde hinanden. Men hvis den ene partikel er positiv ladet, og den anden er negativ ladet, bliver coulombkraften negativ, og de to partikler vil tiltrække hinanden.



12. Coulombs lov skrives også ofte på formen  $F_{coul} = k_c \cdot \frac{q \cdot Q}{r^2}$ . Bestem værdien og enheden for  $k_c$  og kontrollér at coulombkraften får den rigtige enhed.

13. Sammenlignes gravitationsloven,  $F_{grav} = G \cdot \frac{m \cdot M}{r^2}$ , med coulombs lov på formen i det forgående spørgsmål, ses at de to love har samme form. Til gravitationsloven hører en potentiel energi givet ved  $E_{pot,grav} = -G \cdot \frac{m \cdot M}{r}$ . Argumentér for, at den tilsvarende elektriske potentielle

energi kan skrives som  $E_{pot,coul} = k_c \cdot \frac{q \cdot Q}{r} = \frac{1}{4 \cdot \pi \cdot \epsilon_0} \cdot \frac{q \cdot Q}{r}$ .

14. Opskriv coulombs lov for den elektriske tiltrækning mellem protonen og elektronen i brintatomet, idet protonens ladning er lig med elementarladningen  $e$ , mens elektronens ladning er  $-e$ .

15. **Brintatomets energi klassisk.** I den simpleste klassiske beskrivelse af brintatomet antages elektronen med massen  $m_e$  at kredse i en cirkelbane med atomkernen i centrum. Coulombkraften mellem protonen i atomkernen og elektronen leverer den til cirkelbevægelsen nødvendige

centripetalkraft  $\left( F_{cent} = \frac{m_e \cdot v^2}{r} \right)$ . Vis, at elektronens kinetiske energi kan skrives som  $E_{kin} = \frac{1}{8 \cdot \pi \cdot \epsilon_0} \cdot \frac{e^2}{r}$  og opskriv et udtryk for elektronens totale mekaniske energi.

**16. Bohrs kvantebetingelse.** Problemet med den klassiske model for brintatomet er, at elektronen i løbet af meget kort tid vil miste energi i form af elektromagnetisk stråling og bevæge sig i en spiralbane ind mod atomkernen. Bohr antog, at det såkaldte baneimpulsmoment  $L$  kun kunne antage bestemte værdier givet ved  $L = n \cdot \frac{h}{2 \cdot \pi}$ , hvor  $h$  er Plancks konstant og  $n$  er et helt positivt tal, det såkaldte hovedkvantetal. Baneimpulsmomentet er en fysisk størrelse, som er knyttet til en partikels bevægelsesmængde/impuls  $p$ , således at størrelsen af baneimpulsmomentet i en cirkelbane er givet ved  $L = r \cdot p = r \cdot m \cdot v$ .  
Vis, ved at sætte coulombkraften lig med centripetalkraften og bruge Bohrs kvantebetingelse at elektronens fart  $v_n$  i den  $n$ 'te tilstand er givet ved formlen  $v_n = \frac{e^2}{2 \cdot \epsilon_0 \cdot h \cdot n}$  og beregn elektronens fart i grundtilstanden hvor  $n=1$ . Sammenlign med lysets fart!

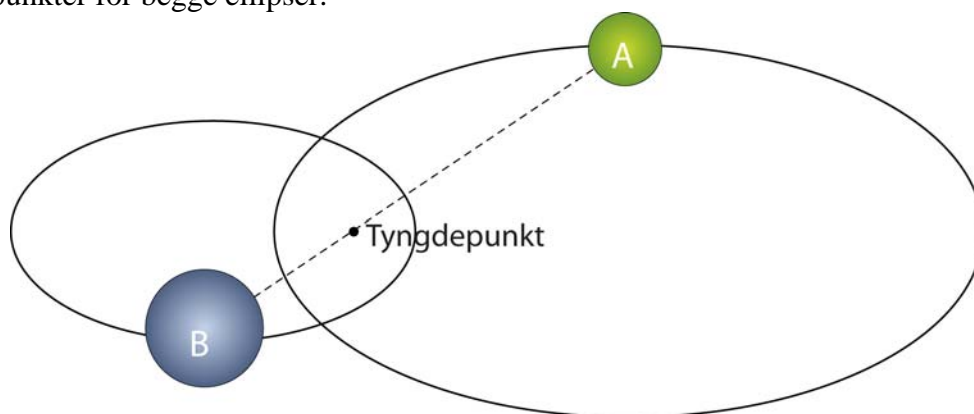
**17. Brintatomets størrelse.** Indsæt formlen for  $v_n$  i Bohrs kvantebetingelse  $r_n \cdot m \cdot v_n = \frac{n \cdot h}{2 \cdot \pi}$  og vis, at brintatomets størrelse i den  $n$ 'te tilstand er givet ved  $r_n = \frac{h^2 \cdot \epsilon_0}{\pi \cdot e^2 \cdot m_e} \cdot n^2$ . Beregn brintatomets størrelse for  $n=1$  (dette tal kaldes også for bohrradius). De fundne afstande for de forskellige energitilstande må ikke tages for bogstaveligt, De må højst betragtes som en sandsynlig middelværdi for afstanden mellem elektronen og atomkernen i de forskellige tilstande.

**18. Brintatomets energiniveauer.** Indsæt udtrykket for brintatomets størrelse i udtrykket for brintatomets totale energi og udregn konstantens værdi i elektronvolt, der betegnes Rydbergkonstanten for uendelig stor kernemasse,  $R_\infty$ . Undersøg, om de beregnede energiniveauer passer med de målte.

### Boks 2. Reduceret masse.

I artiklen står, at energiniveauerne i positronium er halveret i forhold til niveauerne i brint, mens positronium er dobbelt så stort som et brintatom. I ovenstående beregninger er der ingen forskel på om den positive ladning stammer fra en proton eller en positron. Forskellen skyldes at brintkernen er meget tung i forhold til elektronen og derfor ligger næsten stille mens elektronen kredser rundt. I positronium derimod er positronen og elektronen lige tunge og derfor kredser begge partikler rundt om deres fælles tyngdepunkt.

Figuren herunder viser en situation hvor partikel B er lidt tungere end partikel A. Begge partikler bevæger sig i ellipse- eller cirkelbaner rundt om deres fælles tyngdepunkt, således at partiklerne altid befinder sig hver sin ende af en ret linje gennem tyngdepunktet. Tyngdepunktet er brændpunkter for begge ellipser.



Man kan vise, at denne situation (tolegeme-problem) er fysisk ækvivalent med en beskrivelse, hvor én partikel med massen  $\frac{m_A \cdot m_B}{m_A + m_B}$  bevæger sig i en ellipse- eller cirkelbane rundt om ellipsens ene brændpunkt eller cirkelns centrum. Denne masse kaldes for den reducerede masse  $m_{\text{reduceret}}$ .


I praksis betyder det, at elektronens masse  $m_e$  i de foregående spørgsmål om brint burde have været erstattet af den reducerede masse, men for brint er denne fejl meget lille.

19. Beregn den reducerede masse for brintatomet og se, at det er en meget lille fejl at sætte den reducerede masse lig med elektronens masse.
20. Beregn den reducerede masse for positronium og opskriv udtryk for positroniums størrelse og energiniveauer. Er det korrekt at størrelsen fordobles og energiniveauerne halveres? (Afstanden  $r_n$  i brintatomet svarer brintatomets radius da atomkernen stort set ligger stille. Mens afstanden  $r_n$  i positronium svarer til atomets diameter, da både positronen og elektronen bevæger sig i den samme cirkelbane med radius  $r_n/2$  rundt om det fælles tyngdepunkt, så den fysiske udstrækning af de to systemer er i denne model ens.)

21. Undersøg om exciterede tilstande af positronium ved henfald vil kunne udsende lys i det synlige område ligesom Balmerserien for brint.
22. Beregn hvor mange gange elektronen og positronen kredser om hinanden i løbet af den ”langtlevende” types levetid på 142 ns ud fra beregninger af elektronens fart i positronium og positroniums størrelse. Passer det (nogenlunde) med oplysningerne i artiklen?

### Boks 3: Spin

Elektronen (positronen og mange andre partikler) har en kvantemekanisk egenskab, vi kalder for spin – en slags indre rotation. Man kan tænke på elektronen som en lille snurretop, der enten kan snurre mod uret (set oppefra), så siger vi, den har spin op, eller med uret, så har den spin ned.



Til venstre ses en elektron med spin op og til højre en elektron med spin ned.

Både elektronen og positronen har spin  $S=1/2$ , hvilket betyder at positronium kan befinde sig i to tilstande – en symmetrisk tilstand kaldet orthopositronium, hvor de to spin er parallelle og en antisymmetrisk tilstand kaldet parapositronium, hvor de to spin er modsat rettede.

Parapositronium er den ustabile grundtilstand for positronium, som kan annihilere via to fotoner med en levetid på 0,125 ns, mens orthopositronium har en lidt højere energi og annihilerer via tre fotoner. Dette henfald er ikke så sandsynligt og giver orthopositronium en levetid på 142 ns.

Energiforskellen mellem orthopositronium og parapositronium kaldes positroniums finstruktur.

Energiforskellen har to bidrag og er tilnærmelsesvist givet ved

$$E_{ortho} - E_{para} = -\frac{8}{9} \cdot \left( S \cdot (S + 1) - \frac{3}{2} \right) \cdot \frac{R_{\infty}^2}{m_{reduceret} \cdot c^2} + \frac{1}{2} \cdot \frac{R_{\infty}^2}{m_{reduceret} \cdot c^2}$$

Hvor  $S$  er elektronens spin,  $m_{reduceret}$  er den reducerede masse for positronium og  $R_{\infty}=13,60$  eV er Rydbergkonstanten for uendelig stor kernemasse.

Det første bidrag skyldes, at elektriske ladninger i bevægelse genererer magnetfelter. Dette gælder også for spin, og derfor påvirker elektronen og positronen også gensidigt hinanden med magnetfelter genereret af spinnet. (Den tilsvarende effekt ses også i brint, hvor den dog er meget mindre.)

Det andet bidrag til energiforskellen har ingen analog i brint, men skyldes at grundtilstanden i positronium er ustabil, idet positronen og elektronen kan annihilere. Dette viser sig at øge orthopositroniums energi mens parapositroniums energi er upåvirket.

- Undervisningsmateriale til udvalgte artikler fra tidsskriftet *Aktuel Naturvidenskab* •
  - Se mere på [www.aktuelnaturvidenskab.dk](http://www.aktuelnaturvidenskab.dk) •
- 

23. Udregn forholdet mellem de to bidrag til energiforskellen mellem ortho- og parapositronium. Hvilket er størst, og er der stor forskel på de to bidrags størrelse?

24. Udregn  $E_{ortho} - E_{para}$  og sammenlign med den målte værdi på  $8,45 \cdot 10^{-4}$  eV.

25. Beregn, hvor meget energi der frigøres, når positronium annihilere.

### **Perspektiverende opgaver og spørgsmål**

26. Diskutér rimeligheden i at bruge penge til forskning i antistof – kunne pengene måske bruges bedre andre steder?

27. Antistof ses ofte som noget farligt, eksempelvis i bogen *Engle og dæmoner* af Dan Brown hvor antistof anvendes som sprængstof. Giv andre eksempler på områder inden for naturvidenskabelig forskning der ofte forbindes med noget farligt og diskutér rimeligheden i det.

### **Eksamensopgaver med relevans**

Fysik Højt Niveau, August 2001, opgave 2, Tau-leptonen

Fysik Højt Niveau, Maj-juni 2006 opgave 6, En atommodel

Fysik Højt Niveau, Maj-juni 2007 opgave 1, Antistof

### **Til læreren**

Artiklen og dette materiale kan udmærket indgå som en del af et studieretningsprojekt om antistof. Tak til artiklens forfattere for konstruktive kommentarer og forslag til spørgsmål.

### **Relateret materiale**

E. Staffansson mfl., *Fysik i grundtræk 3B, Elektron- og atomfysik*, Munksgaard, 1974

Poul V. Thomsen, *Den moderne fysiks gennembrud: Kvanteteorien*, HOW, 1987

B. R. Martin og G. Shaw, *Particle Physics*, Wiley, 1992

<http://livefromcern.web.cern.ch/livefromcern/antimatter/> (eng.) CERNs hjemmeside om antistof.

<http://www.positron.ucr.edu/video.html> (eng.) Indeholder videoer om antistof

### **Om spin**

[http://iis-old.nakskov-gym.dk/fysik/1a/partikelfysik\\_webmappe/partikel\\_2.htm](http://iis-old.nakskov-gym.dk/fysik/1a/partikelfysik_webmappe/partikel_2.htm) (søgeord: partikelfysik spin)

- Undervisningsmateriale til udvalgte artikler fra tidsskriftet Aktuel Naturvidenskab •
  - Se mere på [www.aktuelnaturvidenskab.dk](http://www.aktuelnaturvidenskab.dk) •
- 

## **Om antistof i universet**

<http://ing.dk/artikel/93031-jagten-paa-rummets-antistof-er-blevet-svaerere>

[http://videnskab.dk/content/dk/naturvidenskab/stjernerod\\_skaber\\_antistof](http://videnskab.dk/content/dk/naturvidenskab/stjernerod_skaber_antistof)

<http://www.physorg.com/tags/antimatter/> (eng.)

## **Antistof, Engle og dæmoner**

<http://ing.dk/artikel/99333-hvordan-vil-rigtigt-antistof-opfoere-sig-i-virkeligheden>

[http://en.wikipedia.org/wiki/Angels & Demons](http://en.wikipedia.org/wiki/Angels_%26_Demons) (eng.) (Søgeord: angels demons antimatter)

Indeholder flere gode links, der diskuterer bogens videnskabelige indhold.